



第四单元测试卷




(时间:60 分钟 满分:100 分)

题 号	一	二	三	四	五	六	七	总 分
得 分								

一、填空题。(每题 1 分,共 13 分)

1. 一个角有()个顶点,()条边。
2. 在一把三角尺上,有()个角,其中有()个直角。
3. 从一个点起,用尺子向不同的方向画()条射线,就画成了一个角。
4. 拿一张长方形纸,先上下对折,再左右对折,就可以得到()角。
5.  左图中有()个角,()条边,()个顶点。
6.  左图中有()个角,其中有()个直角,()个锐角,()个钝角。

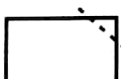
二、判断题。(对的画“√”,错的画“×”)(10 分)

1. 一个角的边画得越长,这个角就越大。()
2. 有三个角的图形一定是三角形。()
3. 一个四边形中一定会有 4 个角。()
4. 角的两边叉开的越大,角就越大。()
5.  这个图形中一共有 2 个角。()




三、选择题。(15 分)

1. 一个正方形中的直角与一个长方形中的直角相比,()。
 A. 正方形中的直角大 B. 长方形中的直角大 C. 相等

2.  左图中的图形剪去一个角后,还剩下几个角? ()
 A. 3 个 B. 4 个 C. 5 个

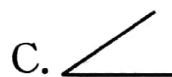
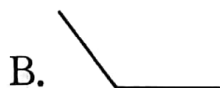
3. 下面哪个物体上有直角? ()。



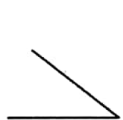
4.  左边钟面上的时针和分针成()。

- A. 锐角 B. 直角 C. 钝角

5. 下面各角中,最大的是(),最小的是()。



四、分一分。(12 分)



①



②



③



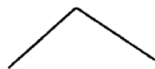
④



⑤



⑥



⑦



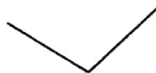
⑧



⑨



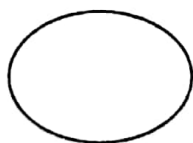
⑩



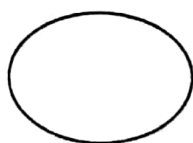
⑪



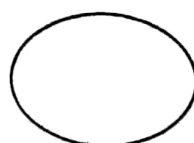
⑫



直角



锐角



钝角



五、哪两个钟面上的时针与分针形成的角同样大？（写序号）（6分）



①



②



③



④



⑤




⑥


()和(); ()和(); ()和()。

六、按要求画一画。（12分）

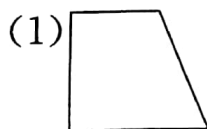
1. 画一个直角。



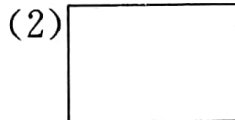
2. 画一个有4个直角的图形。



3. 按要求各画一条虚线。



增加2个直角



剩下2个直角

七、按要求完成下列各题。（32分）

1. 看图填一填。（8分）



1个□有()个角。

3个□有()个角。

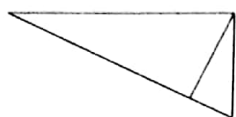


1个△有()个锐角。

2个△有()个锐角。



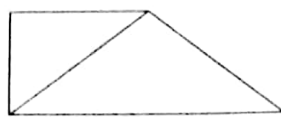
2. 下列的图形中各有几个直角,几个钝角,几个锐角? (12 分)



有()个直角

有()个钝角

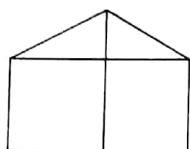
有()个锐角



有()个直角

有()个钝角


有()个锐角



有()个直角

有()个钝角

有()个锐角

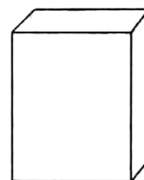


有()个直角

有()个钝角

有()个锐角

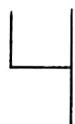
3. 数一数,下面的图形中一共有多少个直角? (3 分)



4. 你观察过电子表上的数字写法吗? 下面这些数字中各有几个直角? (9 分)



() 个



() 个



() 个

